

ΦΥΛΛΟ ΕΡΓΑΣΙΑΣ ΣΤΗ ΦΥΣΙΚΗ Α ΛΥΚΕΙΟΥ ΓΕΝΙΚΗΣ ΠΑΙΔΕΙΑΣ

ΟΝΟΜΑ	ΕΠΙΘΕΤΟ
ΗΜΕΡΟΜΗΝΙΑ	ΤΜΗΜΑ
ΔΙΔΑΣΚΩΝ:ΑΡΙΣΤΟΤΕΛΗΣ Δ. ΖΗΣΙΜΟΥ	Δ ΘΕΜΑΤΑ ΚΙΝΗΜΑΤΙΚΗΣ -ΤΡΑΠΕΖΑ ΘΕΜΑΤΩΝ

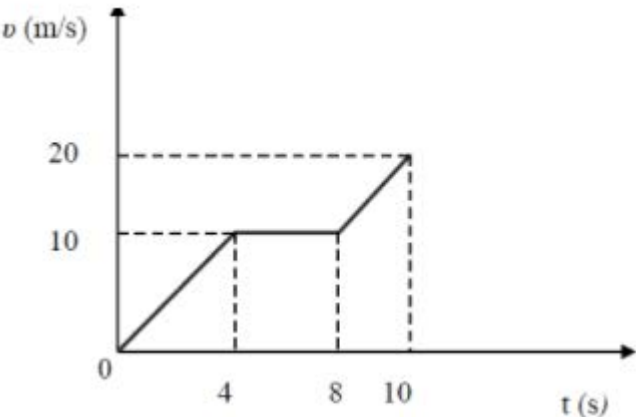
1. Ένα αυτοκίνητο μάζας $m = 1000 \text{ kg}$ ξεκινάει από την ηρεμία και κινείται με σταθερή επιτάχυνση $a = 2 \text{ m/s}^2$ σε ευθύγραμμο δρόμο για χρονικό διάστημα $\Delta t_1 = 10 \text{ s}$. Στη συνέχεια με την ταχύτητα που απέκτησε κινείται ομαλά για $\Delta t_2 = 10 \text{ s}$. Στη συνέχεια αποκτά σταθερή επιβράδυνση με την οποία κινείται για χρονικό διάστημα $\Delta t_3 = 5 \text{ s}$ με αποτέλεσμα να σταματήσει.

Δ1) Να υπολογίσετε το διάστημα που διάνυσε το αυτοκίνητο στο χρονικό διάστημα Δt_1 .

Δ2) Να παραστήσετε γραφικά το μέτρο της ταχύτητας του αυτοκινήτου σε συνάρτηση με το χρόνο, σε βαθμολογημένους άξονες, για όλη τη χρονική διάρκεια της κίνησης του.

Δ3) Να υπολογίσετε τη μέση ταχύτητα του αυτοκινήτου για όλη τη χρονική διάρκεια της κίνησής του.

2. Στο διάγραμμα του σχήματος φαίνεται η γραφική παράσταση της τιμής της ταχύτητας σε συνάρτηση με το χρόνο για ένα σώμα που κινείται σε ευθύγραμμο δρόμο.



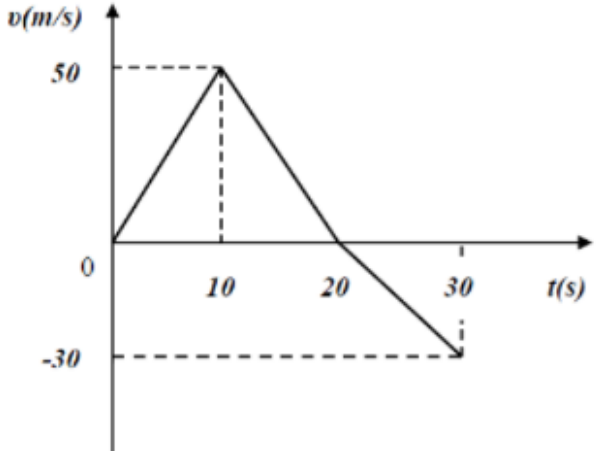
Δ1) Να υπολογίσετε τα μέτρα των επιταχύνσεων a_1 και a_2 με τις οποίες κινείται το σώμα κατά τα χρονικά διαστήματα $0 \text{ s} - 4 \text{ s}$ και $8 \text{ s} - 10 \text{ s}$ αντίστοιχα.

Δ2) Να κατασκευάσετε σε βαθμολογημένους άξονες τη γραφική παράσταση της τιμής της επιτάχυνσης με την οποία κινείται το σώμα σε συνάρτηση με το χρόνο, από τη χρονική στιγμή $t = 0 \text{ s}$ έως και την χρονική στιγμή $t = 10 \text{ s}$.

Δ3) Να υπολογίσετε τη μέση ταχύτητα του σώματος κατά το χρονικό διάστημα $0 \text{ s} - 10 \text{ s}$

Δ4) Αν K_1 και K_2 είναι οι τιμές της κινητικής ενέργειας του σώματος τις χρονικές στιγμές $t_1 = 2 \text{ s}$ και $t_2 = 9 \text{ s}$ αντίστοιχα, να υπολογίσετε το λόγο $\frac{K_1}{K_2}$

3. Στο διπλανό διάγραμμα φαίνεται η γραφική παράσταση της τιμής της ταχύτητας σε συνάρτηση με το χρόνο για ένα σώμα μάζας $m = 2 \text{ kg}$ που κινείται σε οριζόντιο ευθύγραμμο δρόμο.

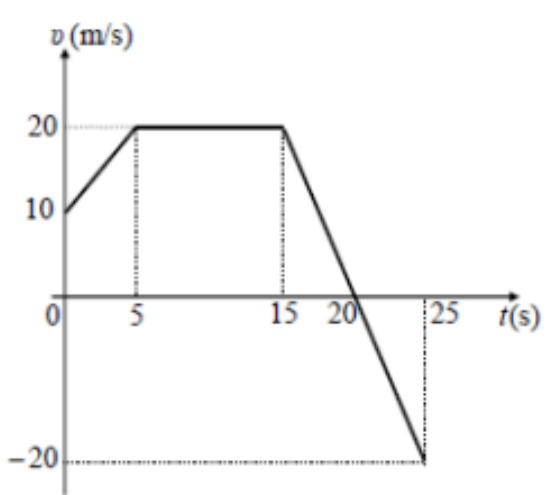


Δ1) Αντλώντας πληροφορίες από το διάγραμμα να υπολογίσετε την αλγεβρική τιμή της επιτάχυνσης με την οποία κινείται το σώμα στα χρονικά διαστήματα, $0 \text{ s} \rightarrow 10 \text{ s}$, $10 \text{ s} \rightarrow 20 \text{ s}$ και $20 \text{ s} \rightarrow 30 \text{ s}$.

Δ2) Να κατασκευάσετε τη γραφική παράσταση της αλγεβρικής τιμής της επιτάχυνσης του σώματος σε συνάρτηση με το χρόνο σε βαθμολογημένους άξονες για το χρονικό διάστημα από $0 \text{ s} \rightarrow 30 \text{ s}$.

Δ3) Να υπολογίσετε τη μέση ταχύτητα του σώματος για το χρονικό διάστημα από $0 \text{ s} \rightarrow 30 \text{ s}$.

4. Ένα αυτοκίνητο με μάζα 900 kg κινείται σε οριζόντιο ευθύγραμμο δρόμο, που ταυτίζεται με τον άξονα $x'x$. Τη χρονική στιγμή $t_0 = 0$, το αυτοκίνητο κινούμενο προς τη θετική κατεύθυνση του άξονα, διέρχεται από τη θέση $x_0 = +25$ m. Στο διπλανό διάγραμμα φαίνεται η γραφική παράσταση της αλγεβρικής τιμής της ταχύτητας του αυτοκινήτου σε συνάρτηση με το χρόνο, από τη χρονική στιγμή $t_0 = 0$ μέχρι τη χρονική στιγμή $t_4 = 25$ s.



Δ1) Να προσδιορίσετε το χρονικό διάστημα κατά το οποίο το αυτοκίνητο επιβραδύνεται.

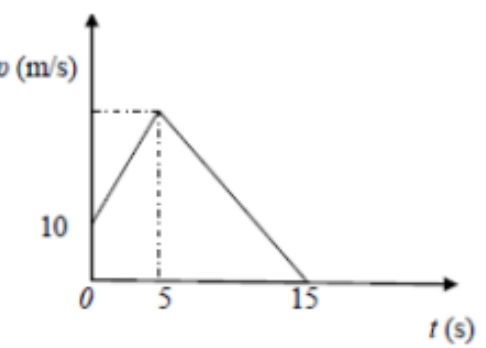
Μονάδες 5

Δ2) Να υπολογίσετε το μέτρο της συνισταμένης των δυνάμεων που ασκούνται στο αυτοκίνητο, από τη χρονική στιγμή $t_0 = 0$ μέχρι τη χρονική στιγμή $t_1 = 5$ s.

Δ3) Να προσδιορίσετε τη θέση του αυτοκινήτου τις χρονικές στιγμές $t_2 = 15$ s και $t_4 = 25$ s.

Δ4) Να υπολογίσετε το συνολικό έργο των δυνάμεων που ασκούνται στο αυτοκίνητο, από τη χρονική στιγμή $t_0 = 0$ μέχρι τη χρονική στιγμή $t_4 = 25$ s.

5. Ένα κιβώτιο μάζας $m = 20$ kg κινείται ευθύγραμμα σε οριζόντιο δάπεδο. Στο διπλανό διάγραμμα φαίνεται η αλγεβρική τιμή της ταχύτητας του κιβωτίου σε συνάρτηση με το χρόνο. Το μέτρο της συνισταμένης δύναμης στα 5 πρώτα δευτερόλεπτα της κίνησης του κιβωτίου είναι $\Sigma F = 40$ N.



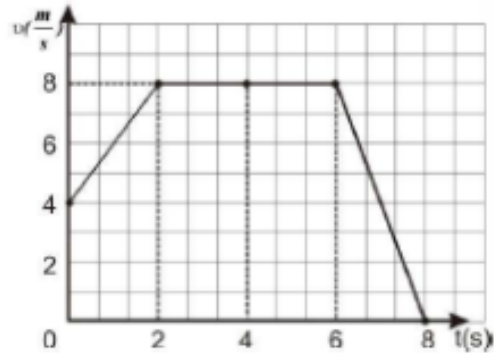
Δ1) Να χαρακτηρίσετε τα είδη των κινήσεων που εκτελεί το κιβώτιο στις χρονικές διάρκειες 0 έως 5 s και 5 έως 15 s.

Δ2) Να υπολογίσετε το μέτρο της ταχύτητας του κιβωτίου, τη χρονική στιγμή $t_1 = 5$ s.

Δ3) Να υπολογίσετε τη μετατόπιση του κιβωτίου στη χρονική διάρκεια $0 \rightarrow 5$ s.

Δ4) Να υπολογίσετε το έργο της συνισταμένης δύναμης στη χρονική διάρκεια $2 \rightarrow 5$ s.

6. Μικρό σώμα μάζας 10 kg κινείται ευθύγραμμα κατά μήκος του προσανατολισμένου άξονα Ox και η τιμή της ταχύτητάς του μεταβάλλεται με το χρόνο όπως φαίνεται στο διπλανό διάγραμμα.



Θεωρείστε ότι τη χρονική στιγμή $t_0 = 0$ s το σώμα βρίσκεται στη θέση $x_0 = 0$.

Δ1) Να χαρακτηρίσετε το είδος της κίνησης του σώματος στα χρονικά διαστήματα $0 \rightarrow 2$ s, $2 \rightarrow 6$ s και $6 \rightarrow 8$ s.

Δ2) Να υπολογίσετε το μέτρο της συνισταμένης των δυνάμεων τη χρονική στιγμή $t_1 = 1,5$ s.

Δ3) Να υπολογίσετε την κινητική ενέργεια του σώματος τη χρονική στιγμή $t_2 = 6$ s.

Δ4) Να υπολογίσετε τη μέση ταχύτητα του σώματος στο χρονικό διάστημα από $0 \rightarrow 8$ s.